

Partie I (8 points)

**Le maintien de l'intégrité de l'organisme :
quelques aspects de la réaction immunitaire**

À partir de l'utilisation des connaissances, expliquer comment se met en place la réaction inflammatoire lors d'une infection bactérienne, ainsi que son rôle dans l'élimination des éléments étrangers.

Votre réponse comprendra une introduction, un développement organisé et une conclusion.
Les quatre symptômes de la réaction inflammatoire sont attendus.

Partie II : Exercice 1 (3 points)
Le domaine continental et sa dynamique

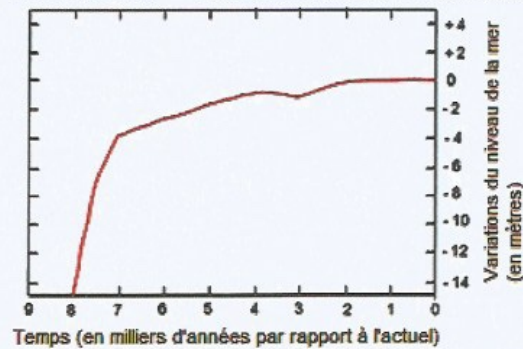
On cherche des arguments permettant de montrer que l'évolution des lignes de rivages observées au niveau de la baie de Gruinard en Ecosse est due à des variations du niveau de la mer et un réajustement lié à l'isostasie.

On rappelle que l'isostasie traduit l'état d'équilibre des roches de la lithosphère sur l'asthénosphère. Cet équilibre est responsable de mouvements verticaux de la lithosphère qui ont lieu sur plusieurs dizaines de milliers d'années.

À partir de l'étude des documents, identifier la bonne réponse parmi les quatre proposées pour chaque affirmation.

Recopier sur la copie le numéro de la question du QCM page 5/9 ainsi que la lettre correspondant à la bonne réponse.

DOCUMENT 1 – Variations mondiales du niveau de la mer depuis -9000 ans.



D'après Fleming et coll. (1998) ; Mine et coll. (2005)

DOCUMENT 2 –Épaisseur des glaciers en Europe au dernier maximum glaciaire, il y a environ 20 000 ans.




D'après S. Couzterand, <http://www.glaciers-climat.com/le-quaternaire.html>

DOCUMENT 3 – Photographie de la baie de Gruinard en Ecosse montrant les variations des lignes de rivage.

La différence d'altitude entre le rivage actuel et le rivage ancien est de 10 mètres.



 Ligne de rivage actuelle
(trait pointillé)

 Ligne de rivage datée de
-7000 ans (trait continu)

D'après Acces.ens-lyon.fr, S. Beaudin

QCM (répondre sur la copie)

1 - D'après le document 1, le niveau de la mer au niveau mondial :

- a) n'a pas varié depuis 8000 ans ;
- b) a connu une augmentation régulière depuis 8000 ans ;
- c) a diminué d'environ 4 m depuis 7000 ans ;
- d) a augmenté d'environ 4 m depuis 7000 ans.

2 - D'après le document 2, il y a 20 000 ans, la baie de Gruinard :

- a) était recouverte d'une calotte de glace de plus de 2500 m d'épaisseur ;
- b) était recouverte d'une calotte de glace de plus de 1000 m d'épaisseur ;
- c) était recouverte d'une calotte de glace de moins de 1000 m d'épaisseur ;
- d) n'était pas recouverte de glace.

3 - D'après le document 3, il y a 7000 ans, le rivage de la baie de Gruinard se situait :

- a) 10 mètres au-dessous du niveau actuel ;
- b) 10 mètres au-dessus du niveau actuel ;
- c) au même niveau que le rivage actuel ;
- d) à un niveau que l'on ne peut pas déterminer.

4 - La position actuelle de la ligne de rivage de Gruinard peut s'expliquer par :

- a) la fonte de la calotte glaciaire qui a entraîné une augmentation du niveau marin ;
- b) la fonte de la calotte glaciaire qui a entraîné une diminution du niveau marin ;
- c) un phénomène d'isostasie qui a entraîné une élévation de l'Ecosse suite à la fonte de la calotte glaciaire ;
- d) un phénomène d'isostasie qui a entraîné un enfoncement de l'Ecosse suite à la fonte de la calotte glaciaire.

Enseignement de spécialité

Partie II : Exercice 2 (5 points)

Énergie et cellule vivante

Les récifs coralliens constituent une grande réserve de biodiversité, leur blanchiment croissant observé depuis quelques décennies inquiète les scientifiques.



D'après le site <http://marinesavers.com/2016/07/coral-bleaching-updates> consulté en 2016

À partir de l'étude des documents et de l'utilisation des connaissances :

- déterminer les deux facteurs qui provoquent le blanchiment des coraux et leurs conséquences sur la survie de ces organismes ;
- expliquer pourquoi on peut craindre une disparition accélérée des coraux dans les années à venir.

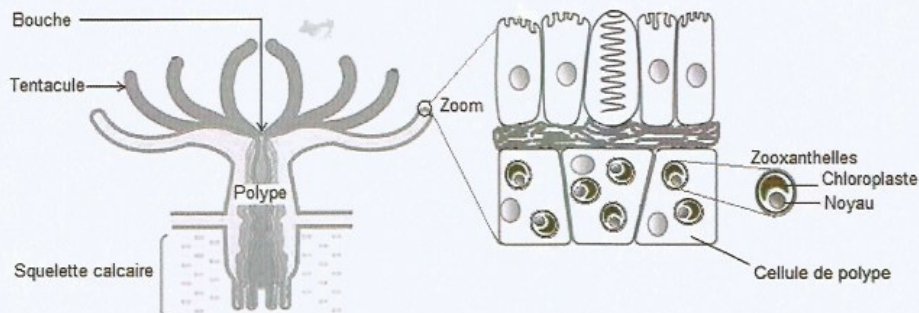
DOCUMENT DE REFERENCE – Caractéristiques des coraux.

Les coraux sont des animaux qui vivent en colonies d'individus appelés polypes. Ils vivent fixés et produisent un squelette calcaire pouvant former des récifs.

Chaque polype vit obligatoirement en symbiose avec des algues unicellulaires, les zooxanthelles.

Les pigments chlorophylliens de ces algues sont responsables de la coloration des coraux en vert-brun.

La perte des zooxanthelles conduit à la mort du polype.

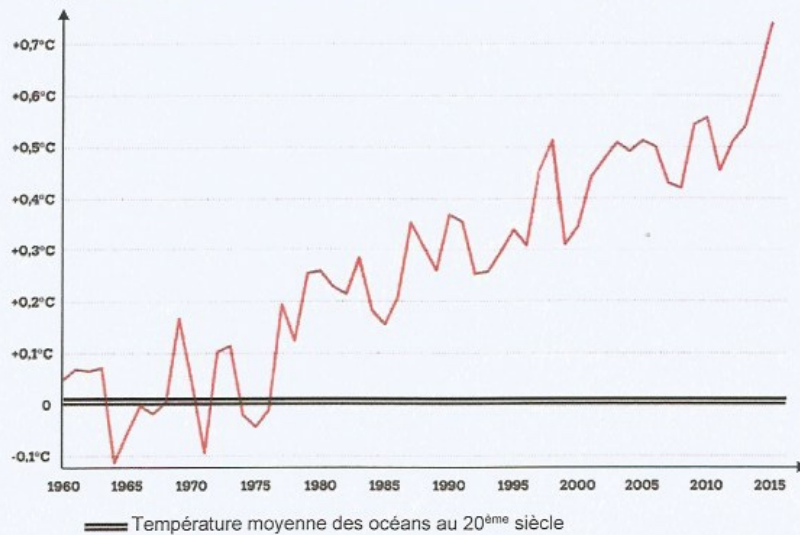


Modifié d'après NOAA

DOCUMENT 1 – Température et blanchiment.

Document 1a – Évolution de la température moyenne de surface de l'eau de mer depuis plusieurs décennies.

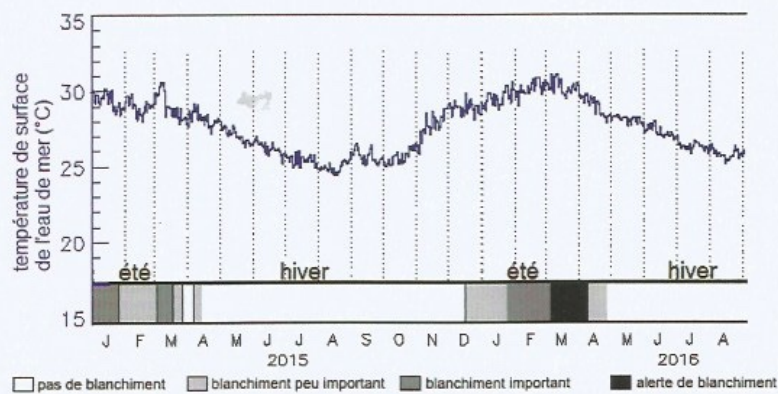
**Température des océans en fonction des années en degrés Celsius
(écart par rapport à la température moyenne du 20^{ème} siècle)**



D'après <http://www.noaa.gov> consulté en novembre 2016

Document 1b – Évolution récente de la température de surface de l'eau de mer et du blanchiment des coraux de la grande barrière de corail au nord de l'Australie.

Dans cette partie du globe, la durée du jour et celle de la nuit varient peu en fonction des saisons. En revanche, l'intensité lumineuse reçue est plus importante en été qu'en hiver.




D'après National Oceanographic and Atmospheric Administration (NOAA), 21 mars 2016

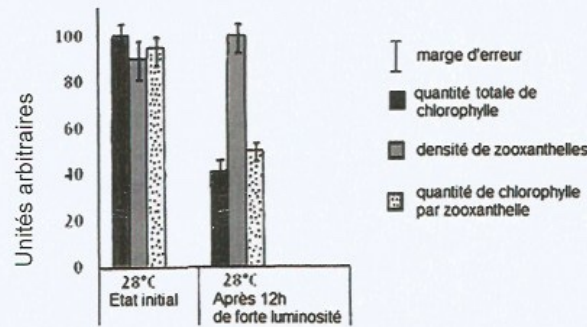
DOCUMENT 2 – Étude de l'impact de la lumière sur le corail.

Document 2a – Influence de la lumière sur l'aspect du corail.

Un échantillon de corail est recouvert par deux caches noirs (opaques) puis exposé à une forte luminosité (54 000 lux) pendant 12 h à 28°C (température de vie de ce corail). L'échantillon est ensuite replacé pendant 24 h dans les conditions initiales.



Document 2b – Influence de la lumière sur l'activité métabolique du corail.

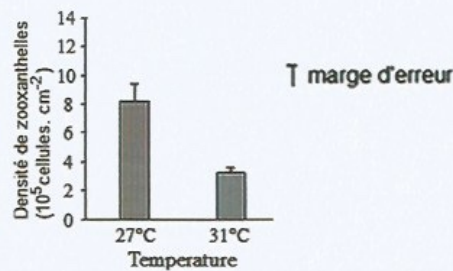


D'après Takahashi et coll. (2004). *Plant Cell Physiol.*, vol 45

DOCUMENT 3 – Effet de la température sur le corail.

On étudie sur des coraux (*Acropora tenuis*) en culture l'impact de la température en mesurant la quantité de zooxanthelles présentes dans les coraux.

Les coraux sont cultivés 25 jours à 27°C puis la température de culture est augmentée pendant une semaine à 31°C. On compare la densité des zooxanthelles entre ces deux températures de culture.



D'après Tanaka et coll. (2014). *J. Exp. Marine Biol. and Ecol.* 457